

ATIVIDADES COMPLEMENTARES DE ESTUDO – COVID 19

Escola Municipal Professor Sebastião Feltrin. E.I.E.F.
Rua: Tapajós – 540 Vila Oliveira Rolândia -Paraná

7º MÓDULO - 4º ANO

SALA DE RECURSOS MULTIFUNCIONAL TIPO I

PROFESSORA : MARCIA NOVAES

COMPONENTES CURRICULARES: LÍNGUA PORTUGUESA E MATEMÁTICA

PERÍODO DE REALIZAÇÃO: 29 DE JUNHO A 03 DE JULHO









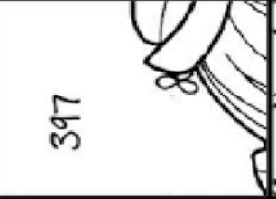




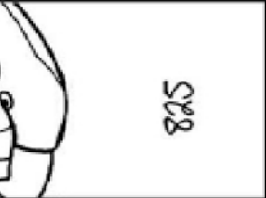


OLÁ , PRESTE MUITA ATENÇÃO NAS EXPLICAÇÕES E ÁUDIOS QUE A PROFESSORA IRÁ POSTAR NO GRUPO DE WATSAP.

O QUE VOCÊ VAI ESTUDAR	<ul style="list-style-type: none"> ➤ <u>LÍNGUA PORTUGUESA E MATEMÁTICA</u> ➤ Atenção, concentração, percepção visual, orientação espacial, lateralidade ➤ Cálculo, operação de adição
PARA QUE VAMOS ESTUDAR ESSES CONTEÚDOS?	<ul style="list-style-type: none"> ➤ Desenvolver atenção, concentração e raciocínio ➤ Resolver adição ➤ Organizar o quebra cabeça no espaço correto e descobrir o desenho. ➤ Identificar esquerda e direita
COMO VAMOS ESTUDAR OS CONTEÚDOS?	<ul style="list-style-type: none"> ➤ Organize um ambiente tranquilo e fique atento as explicações dadas pela professora; ➤ Não deixe as atividades acumularem; ➤ Se tiver dúvida pergunte no whatsapp para a professora para nova explicação.

ATENÇÃO PARA ESSA ATIVIDADE, SIGA OS PASSOS:

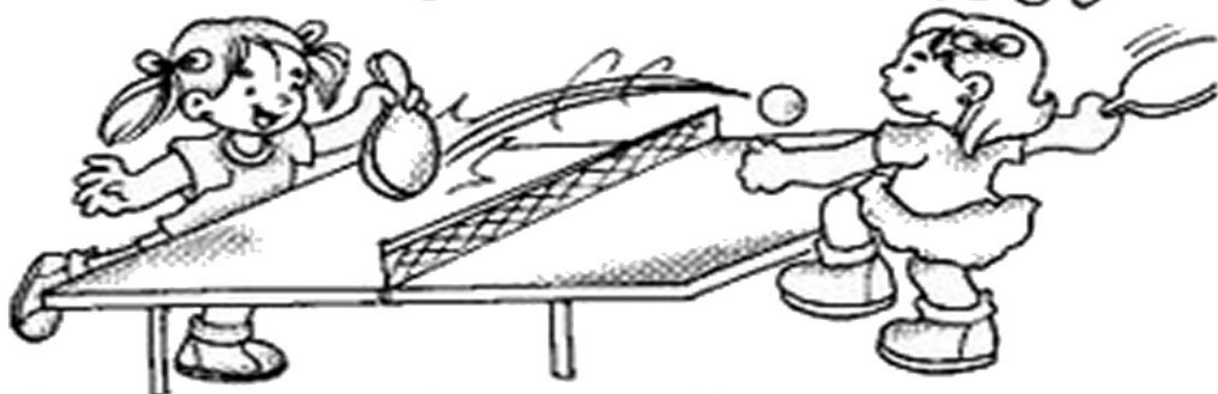
- 1) Em uma folha separada arme as operações e as realize
- 2) Recorte o quebra cabeça
- 3) Cole os desenhos em cima da continha em que seu resultado seja correspondente.
- 4) Pinte bem bonito.

$234+135$	$146+233$	$362+135$	$424+75$
$450+25$	$475+25$	$525+50$	$575+25$
$425+135$	$346+226$	$247+161$	$508+132$
$700+150$	$600+225$	$240+500$	$167+400$

 408	 575	 560	 640
 575	 500	 475	 600
 397	 379	 369	 499
 740	 825	 850	 948

OBSERVE O DESENHO E RESPONDA:

DIREITA ou ESQUERDA!



Paula segura a raquete com a mão _____ .

Maria segura a raquete com a mão _____ .

Paula está com o pé _____ no chão.

Maria está com o pé _____ no chão.



Para onde os objetos estão virados?



virado para a



virado para a



virado para a



virado para a



virado para a



virado para a



virado para a



virado para a


Preste atenção em você, neste momento realizando essa atividade e escreva o que tem:

A sua direita? _____

A sua esquerda? _____

SUGESTÃO: MOMENTO CONECTADO

SE VOCÊ TEM COMPUTADOR EM CASA COM ACESSO A INTERNET, PEÇA AUTORIZAÇÃO PARA SEU RESPONSÁVEL E JOGUE O JOGO: CANHÃO NUMÉRICO



COMO ACESSAR:

Entre no site:

<https://rachacuca.com.br/jogos/canhao-numerico/>

COMO JOGAR:

Use o mouse para mirar e atirar. Aperte a barra de espaço para trocar a bolinha atual.

Destrua as bolas mirando e atirando cuja soma seja 10.

Exemplo se na bola da frente canhão for 7 você deverá jogar essa bola no número 3.

$7+3=10$ as bolinhas irão explodir e desaparecer.

Se jogar e não der a soma 10 as bolinhas irão aumentando e seu tempo acabando.

Boa sorte!!!

PROFESSORA MÁRCIA